

Les expériences en ligne du Prof Albert



**Les bandes
riveraines
3^e cycle**

Carnet d'accompagnement



Carnet réalisé par :

COMMISSION SCOLAIRE **Sophie Richer, enseignante et Sylvie Guilbault, conseillère pédagogique**
DES CHÊNES **Le service des ressources éducatives aux jeunes**

Enrichissement

Explique-moi pourquoi il est néfaste d'abattre des arbres près des cours d'eau.

Explique dans tes mots ce qu'un écosystème a besoin pour rester en équilibre et en santé.

Et toi, qu'aurais-tu fait à la place de Philippe?

La bande riveraine

Complète la définition d'une bande riveraine:

Une bande riveraine est une bande _____ nécessaire à la _____ d'un cours d'eau. C'est aussi un _____ faunique exceptionnel. Plusieurs espèces animales peuvent y vivre autant sur _____ que dans _____.

Les différents cours d'eau

Peux-tu nommer au moins 4 cours d'eau différents que l'on retrouve sur la Terre?

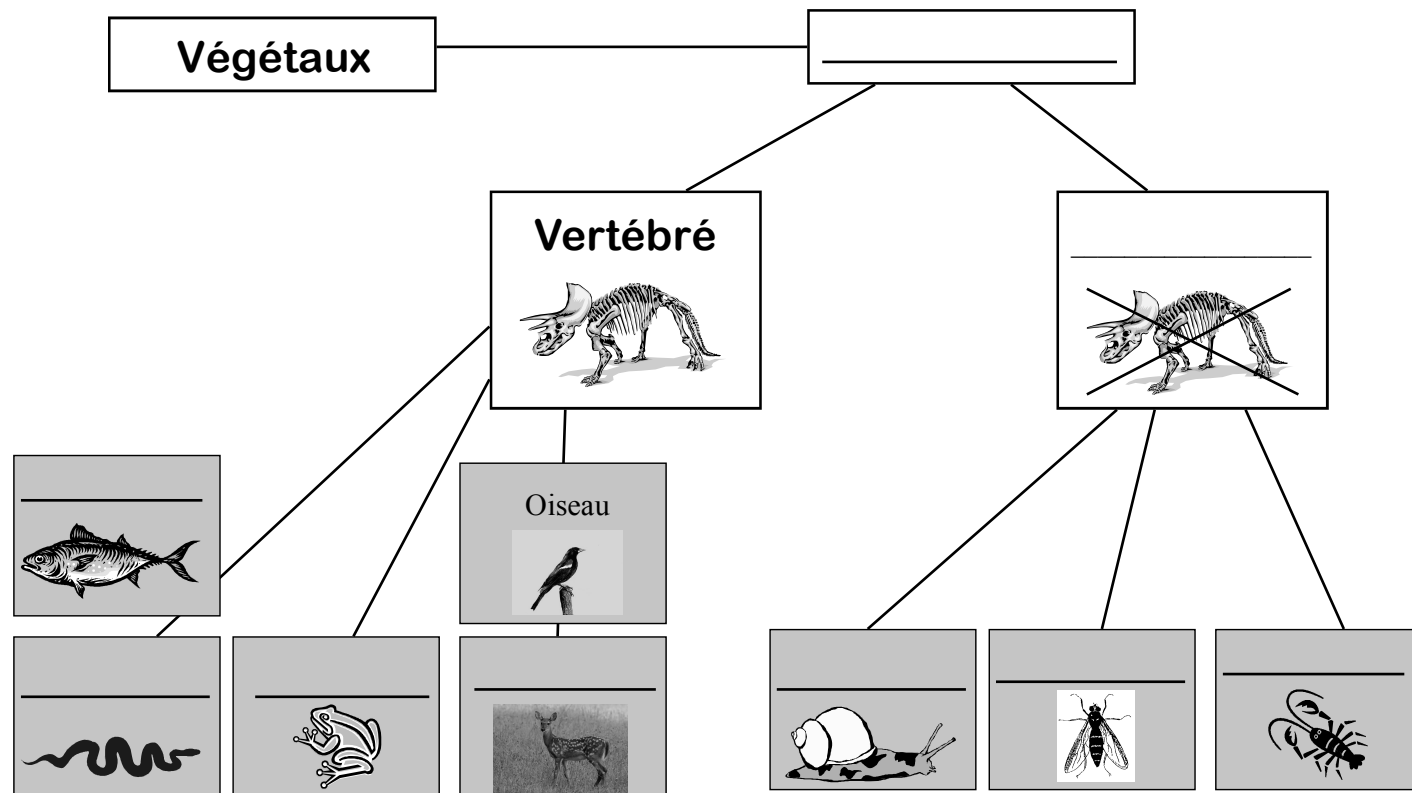
Peux-tu nommer les 2 principaux cours d'eau que l'on retrouve dans notre région?



La classification des vivants

Remplis le tableau suivant à l'aide des mots-clés ci-dessous.


Animaux, invertébré, reptile, mollusque, amphibien, insecte, poisson, crustacé, mammifère.



Définitions

Relie la bonne définition avec le dessin approprié.

1. Animal vertébré qui vit sur terre et dans l'eau.
2. Animal aquatique invertébré à carapace.
3. Animal vertébré ayant le corps couvert d'écailles ou de peau.



Maintenant que tu as révisé les importantes classes d'animaux que l'on retrouve aux abords des cours d'eau de Drummondville, trouve ce que tous ces animaux ainsi que les humains ont absolument besoin pour vivre.

Indice: Mot de 3 lettres _____



Les causes

Nous avons observé plusieurs photos nous montrant des cours d'eau de différentes couleurs.

En remplaçant les lettres en ordre, tu trouveras les 4 principales causes qui peuvent expliquer que l'eau peut être brunâtre.

1. ESL UELRPTAICS _____
2. AL LLOPONIUT _____
3. AL DÉIMNESIAOTTN _____
4. L'TTGEAAAB d'arbres en bordure des cours d'eau _____

Quels sont les 3 ingrédients nécessaires afin qu'un cours d'eau reste propre et en santé?

1. _____ 
2. _____ 
3. _____ 