


Les expériences en ligne du Prof Albert



Étutions l'eau



Cahier d'observation

Les deux types d'eau

Dans la nature, nous retrouvons l'eau dans deux sortes de cours d'eau, que nous appelons.....



L'eau _____ qui est

l'eau des _____.

Pourquoi cette eau n'est pas bonne à boire?



L'eau _____ qui


provient des _____.

Les trois états de l'eau

Je peux retrouver l'eau selon trois formes de matières différentes. Quelles sont-elles?


État _____

Dessine-le:



État _____

Dessine-le:



État _____

Dessine-le:



Le cycle de l'eau

Maintenant, pour être certain que tu te rappelles bien tout ce que tu as vu et entendu, nous aimerions que tu dessines le cycle de l'eau et que tu écrives quelques mots pour expliquer ce phénomène de la nature.

